

ВОПРОСЫ:

1. Сколько туристов живет в лагере?
2. Когда они сюда приехали: сегодня или несколько дней назад?
3. На чем они сюда добрались?
4. Далеко ли до ближайшего селения?
5. Откуда дует ветер: с севера или юга?
6. Какое время суток?
7. Куда отправился Шура?
8. Кто вчера был дежурным (имя мальчика)?
9. Какая дата: число, месяц?

ОТВЕТЫ:

1. Четверо. Если внимательно присмотреться, можно увидеть: 4 столовых приборов, а в списке на дежурство — 4 имени.
2. Точно не сегодня. На это указывает паутина.
3. На лодке. Около дерева стоят весла.
4. Нет. На картинке есть курица, значит где-то недалеко селение.
5. С юга. На палатке есть флажок, по которому легко определить, откуда дует ветер. У дерева с одной стороны ветки короче, с другой длиннее. Обычно у деревьев с южной стороны ветки длиннее.
6. Утро. По предыдущему вопросу ясно, где север-юг, теперь можно понять, где восток-запад, и посмотреть на тени, которые отбрасывают предметы.
7. Он ловит бабочек. Из-за палатки виден сачок.
8. Коля. Сегодня Коля что-то ищет в рюкзаке с буквой «К», Шура ловит бабочек, а Вася фотографирует природу (потому что из рюкзака с буквой «В» виден штатив от камеры). Значит, сегодня дежурит Петя, а вчера, согласно списку, дежурил Коля.

9. 8 августа. Если посмотреть на список, раз сегодня дежурит Петя, то число — 8. А поскольку на поляне лежит арбуз, значит, август.



1. Зачем здесь находятся партизаны.
2. Кто из партизан замаскировался правильно, а кто не правильно и почему?
3. Какие машины идут по дороге?
4. В какую сторону идет колонна - на север, юг, восток или запад?
5. В какое время дня происходят события?
6. Что делает враг - отступает или наступает?
7. Что можно использовать для еды?
8. Можно ли здесь утолить жажду?

Ответы:

1. Разведчики-партизаны ведут наблюдение за движением колонны, подсчитывая количество техники и живой силы
2. Неправильно выбрал позицию партизан, который забрался на дерево. Там его проще обнаружить и поразить из стрелкового оружия. Кроме того, из такого укрытия он не сможет быстро скрыться в случае обнаружения, рискуя попасть в плен.
3. На человеке, который стоит возле дороги и держит смотанный провод, надета хорошо различимая кепка с козырьком. Такие кепки носили солдаты Вермахта, следовательно это фашист, а проезжающая мимо него колонна машин - вражеская.
4. Вражеские солдаты в основном были христианами, у которых принято хоронить покойных ногами на восток, а крест ставить в изголовье. В правой части картинке изображено небольшое кладбище, где похоронены немецкие солдаты. По ориентации крестов несложно понять, что колонна автомобилей движется с востока на запад.
5. От расположенных вдоль дороги столбов падают длинные тени с запада на восток, следовательно события происходят вечером.
6. В 1941 году враг напал на СССР с запада. На горизонте виднеются клубы дыма, вероятно рядом проходят бои. Колонна вражеских автомобилей движется на запад, а солдаты снимают провода со столбов, уничтожая коммуникации. Значит враг отступает.
7. На дереве, изображенном в левом углу картинке, растут опята, а в водоеме водятся утки.
8. Между лесом и дорогой расположен водоем с пресной водой, откуда можно напиться самому и принести воды товарищам.
- 9.



В партизанский отряд пришёл человек. Он сообщил, что зовут его Семён Рубцов, что он колхозник и бежал от немцев. Он обещал провести партизан к большим складам боеприпасов. Одет он был по-деревенски и хорошо говорил по-русски. Командир отряда оставил его переночевать и сам велел бойцам тихонько наблюдать за Рубцовым и проверить, что он за человек. Никто не заметил ничего подозрительного за весь день. Но когда стали готовить ужин, обнаружилось, что Рубцов не русский. Его уличили, и он сознался, что он шпион.

Ответ на задачу 1.

Оказалось, что шпион не умеет пользоваться русским самоваром. Поэтому он попытался залить воду из ведра в дымовую трубу.

ЗАДАЧА ВТОРАЯ

Партизаны-разведчики обнаружили немецкий грузовик, застрявший в снегу, и возле него группу немцев. Разведчиков было всего двое, но они решили захватить грузовик. Надо было подобраться незаметно к немцам и тогда неожиданно напасть на них. Но как

подобраться? Место было открытое, снег всюду, а маскировочных халатов у партизан не было.

— А ну-ка, я попробую одну штуку. Может, удастся, — сказал Тимофей Строгов.

Партизанам удалось захватить грузовик.

Что же придумал Тимофей Строгов и как ухитрился подобраться незаметно к немцам? Кто догадался, тот вместо ответа пусть нарисует картинку, как Тимофей Строгов подкрадывается к немцам, и пришлёт картинку нам.



Партизаны-разведчики обнаружили немецкий грузовик, застрявший в снегу, и возле него группу немцев. Разведчиков было всего двое, но они решили захватить грузовик. Надо было подобраться незаметно к немцам и неожиданно напасть на них. Но как подобраться? Место было открытое, снег всюду, а маскировочных халатов у партизан не было.


— А ну-ка, я попробую одну штуку. Может, удастся, — сказал Тимофей Строгов.

Партизанам удалось захватить грузовик.

Что же придумал Тимофей строгов и как ухитрился подобраться незаметно к немцам? Кто догадался, тот вместо ответа пусть нарисует картинку, как Тимофей Строгов подкрадывается к немцам, и пришлёт картинку нам.

Ответ на задачу 2.

Партизан накрылся корытом, присыпанным снегом, и ползком незаметно подобрался к врагам.



ДОГАДЛИВОСТЬ

Взгляните на картинку. Вы увидите на ней мальчика Серёжу Пяткина и садовника Павла Фомича Цветочкина. Оба они в большом затруднении. Дело в том, что Серёжа, играя в саду с мячом, нечаянно закинул его в эту красивую вазу и не может достать. Павел Фомич очень хочет помочь Серёже, но тоже не может придумать, как тут быть. Забраться в вазу невозможно, а лестницы под рукой нет. Так вот: попробуйте помочь им, придумайте способ достать мячик. Кто догадается, может поставить себе пятёрку за ум и догадливость.

Взгляните на картинку. Вы увидите на ней мальчика Серёжу Пяткина и садовника Павла Фомича Цветочкина. Оба они в большом затруднении. Дело в том, что Серёжа, играя в саду с мячом, нечаянно закинул его в эту красивую вазу и не может достать. Павел Фомич очень хочет помочь Серёже, но тоже не может придумать, как тут быть. Забраться в вазу невозможно, а лестницы под рукой нет. Так вот: попробуйте помочь им, придумайте способ достать мячик.


Ответ на задачу 3.

Нужно поднять с земли шланг и наполнить водой вазу. Мячик поднимется на верх и выпадет из вазы.

СЧЁТ

Умеете считать до двадцати? Говорите: «Конечно, умеем даже до тысячи и до миллиона!» Ну и прекрасно. В таком случае, насчитайте не миллион, а всего двадцать предметов, начинающихся на букву «н» и нарисованных на этой картинке. Кто на-

считает двадцать, получит пятерку. А кто сумеет найти больше двадцати, тот прочтёт свою фамилию в списке отличников Мурзилкиной школы. Будьте добры, в ответах точно перечислить все предметы на букву «н», которые вам удалось найти.



Умеете считать до двадцати? Говорите: «Конечно, умеем до тысячи и даже до миллиона!» Ну и прекрасно. В таком случае насчитайте не миллион, а всего двадцать предметов, начинающихся на букву «Н» и нарисованных на картинке. Кто насчитает двадцать, получит пятерку. А то сумеет найти больше двадцати, тот прочтет свою фамилию в списке отличников школы. Будьте добры, в ответах точно перечислить все предметы на букву «Н», которые вам удалось найти на картинке

ОТВЕТ НА ЗАДАЧУ

Редакция получила семьсот с лишним ответов на эту задачу. Более пятисот читателей решили задачу правильно и назвали от двадцати до двадцати пяти предметов.

Лучшие решения прислали Серёжа Фёдоров (г. Москва) и актив ребят детской библиотеки имени Берия (Тбилиси).

Вот сколько они нашли предметов:

1. Нос. 2. Носилки. 3. Няня. 4. Номер. 5. Навес. 6. Нора. 7. Ноги. 8. Небо. 9. Ногти. 10. Нож. 11. Наседка. 12. Ножницы. 13. Нитки. 14. Наушники. 15. Носорог. 16. Носки. 17. Нива. 18. Накидка. 19. Негры. 20. Наволочка. 21. Напёрсток. 22. Нарцисс. 23. Надпись. 24. Насыпь. 25. Нарост. 26. Ноша. 27. Носильщик. 28. Наконечник. 29. Низменность. 30. На-

гечник. 29. Низменность. 30. Нагорье. 31. Нарезы. 32. Насаждения. 33. Ножовка. 34. Невод. 35. Наличник. 36. Настил. 37. Накат. 38. Накладка.

Редакция не получила ещё ответов на задачи, помещённые в №№ 8—9 и 10—11.

NOVATE.RU



В одном из треугольников на рисунке находится снайпер. Не меняя места и не задевая ни домов, ни деревьев, он уничтожил всех фашистов. Найди этот треугольник.



НАБЛЮДАТЕЛЬНОСТЬ И СООБРАЗИТЕЛЬНОСТЬ

Проверим, наблюдателен ли ты. Вот испытание: обыкновенная картинка, ничего особенного на ней не происходит. Посмотри и точно ответь: 1) Какое сейчас время дня: утро, полдень или вечер? 2) Какое время года? 3) Какая погода—тихая или ветрено? 4) Тепло сей-

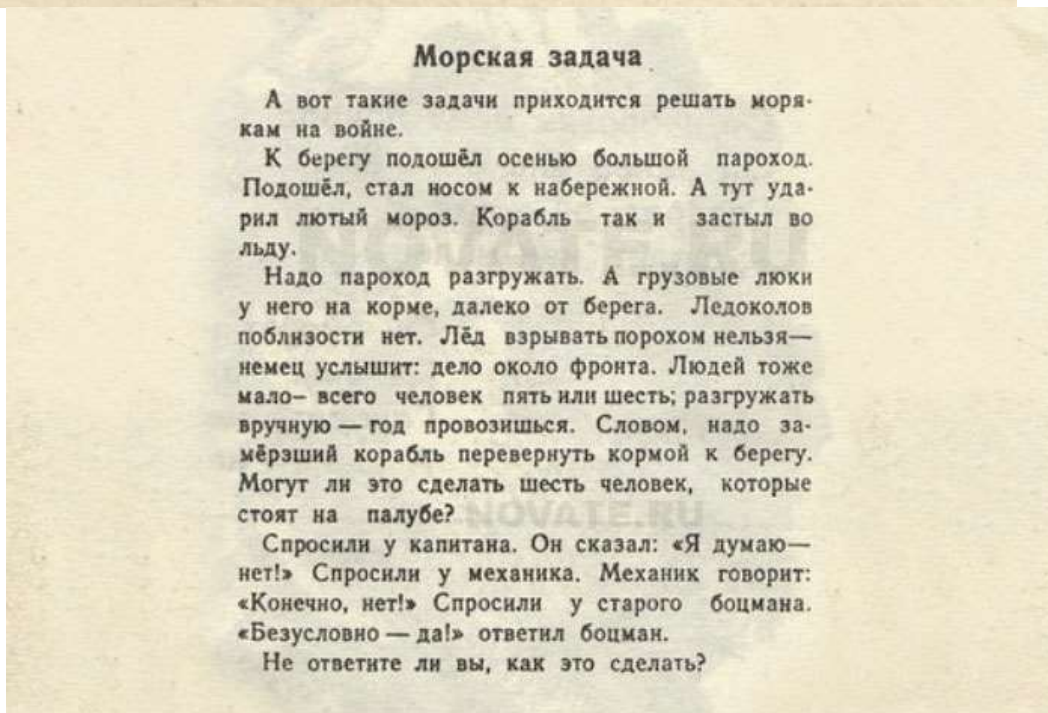
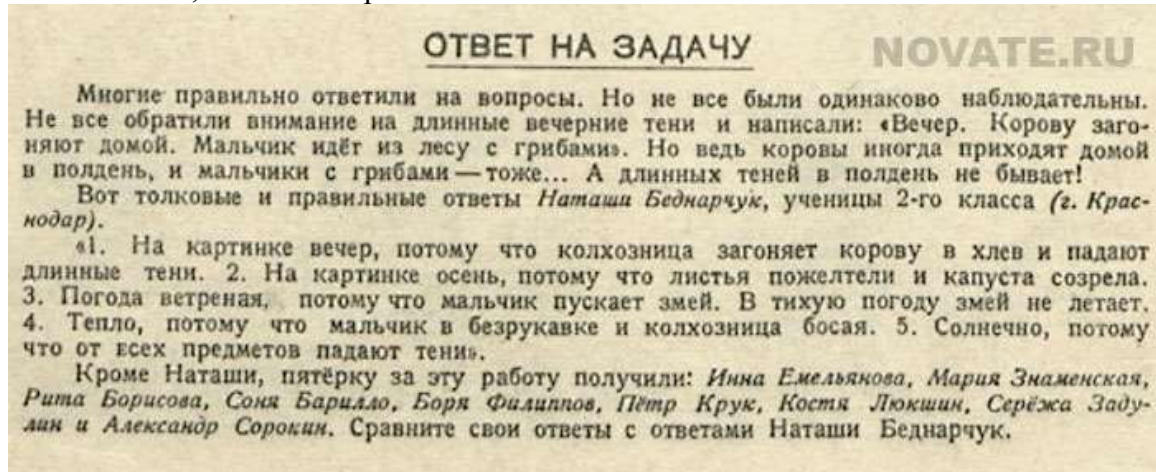
час или холодно? 5) Солнечно или пасмурно? Напиши ответ, но не как-нибудь, а с объяснением: почему ты думаешь, что время дня и погода именно такая, как ты говоришь. Ответишь верно и точно—получишь «отлично» за наблюдательность.



Проверим, наблюдателен ли ты. Вот испытание: обыкновенная картинка, ничего особенного на ней не происходит. Посмотри и точно ответь:

- 1) Какое сейчас время дня: утро, полдень или вечер?
- 2) Какое время года?
- 3) Какая погода — тихая или ветрено?
- 4) Тепло сейчас или холодно?
- 5) Солнечно или пасмурно?

Напиши ответ, но не как-нибудь, а с объяснением: почему ты думаешь, что время дня и погода именно такая, как ты говоришь



А вот такие задачи приходится решать морякам на войне.

К берегу подошел осенью большой пароход. Подошел, и стал носом к набережной. А тут ударил лютый мороз. Корабль так и застыл во льду.

Надо пароход разгружать, а грузовые люки у него на корме, далеко от берега. Ледоколов поблизости нет. Лёд взрывать порохом нельзя - немец услышит: дело около фронта. Людей тоже мало — всего человек пять или шесть; разгружать вручную — год провозишься. Словом, надо замерзший корабль перевернуть кормой к берегу. Могут ли это сделать шесть человек, которые стоят на палубе?

Спросили у капитана, он сказал: «Я думаю — нет!» Спросили у механика. Механик говорит: «Конечно, нет!» Спросили у старого боцмана. «Безусловно — да!» ответил боцман.

Не ответите ли вы, как это сделать?

Ответ на задачу 7.

Боцман парохода был опытным моряком, поэтому предложил посыпать угольной крошкой лед вокруг парохода. Несмотря на заморозки, осенний лед совсем не толстый, поэтому на солнце он быстро растаял.

РИСОВАНИЕ

А теперь испытаем, годишься ли ты в разведчики. Вот топографическая карта. На ней условными знаками изображена местность. Теперь покажи нам, как эта местность выглядит на самом деле. Нарисуй картинку по этой карте. Где обозначено возвышение, там нарисуй холмик, где дом—нарисуй домик. Рисовать, разумеется, надо только то, что видишь со стороны моста. Ясно, что ту часть реки, которая находится за возвышенностью, рисовать не придётся: её не будет видно из-за холма. Понятно? Трудно? Ничего, зато полезно. Картинки хорошо бы делать цветными карандашами. Рисунки присылай в редакцию, а мы поставим отметку.

Ну-ка, кто постарается на «отлично»?

